

Prova Escrita Objetiva – Nível Médio completo

AGENTE CENSITÁRIO MUNICIPAL - AGENTE CENSITÁRIO SUPERVISOR

Tipo 1 – BRANCA



SUA PROVA

Além deste caderno de prova, contendo cinquenta questões objetivas, você receberá do fiscal de sala:

- uma folha destinada às respostas das questões objetivas



TEMPO

- **4 horas** é o período disponível para a realização da prova, já incluído o tempo para a marcação da folha de respostas da prova objetiva
- **2 horas e 30 minutos** após o início da prova é possível retirar-se da sala, sem levar o caderno de prova
- **30 minutos** antes do término do período de prova é possível retirar-se da sala levando o caderno de prova



NÃO SERÁ PERMITIDO

- Qualquer tipo de comunicação entre os candidatos durante a aplicação da prova
- Levantar da cadeira sem autorização do fiscal de sala
- Usar o sanitário ao término da prova, após deixar a sala



INFORMAÇÕES GERAIS

- As questões objetivas têm cinco alternativas de resposta (A, B, C, D, E) e somente uma delas está correta
- Verifique se seu caderno está completo, sem repetição de questões ou falhas. Caso contrário, notifique imediatamente o fiscal da sala, para que sejam tomadas as devidas providências
- Confira seus dados pessoais, especialmente nome, número de inscrição e documento de identidade e leia atentamente as instruções para preencher a folha de respostas
- Use somente caneta esferográfica, fabricada em material transparente, com tinta preta ou azul
- Assine seu nome apenas nos espaços reservados
- Marque na folha de respostas o campo relativo à confirmação do tipo/cor de prova, conforme o caderno recebido
- O preenchimento das respostas da prova objetiva é de sua responsabilidade e não será permitida a troca da folha de respostas em caso de erro
- Reserve tempo suficiente para o preenchimento de suas respostas. Para fins de avaliação, serão levadas em consideração apenas as marcações realizadas na folha de respostas da prova objetiva, não sendo permitido anotar informações relativas às respostas em qualquer outro meio que não seja o caderno de prova
- Os candidatos serão submetidos ao sistema de detecção de metais quando do ingresso e da saída de sanitários durante a realização das provas
- Boa Sorte!

Língua Portuguesa

Texto 1 – “Com todos os problemas que temos em nosso Estado – corporativismo, incompetência pública, intervencionismo, burocracia, estatismo, carga tributária complexa, entre outros -, ainda somos um país de muita sorte. Pelo simples fato de que a solução para nossos problemas só depende de nós mesmos.

Não somos como a Palestina, que depende de Israel para existir. Nem somos como os países europeus, que dependem uns dos outros. Tampouco, como os Estados Unidos, que carregam um peso imenso de problemas deles e dos outros”.

(Isto É, março de 2017)

1

A primeira frase do texto 1 “Com todos os problemas que temos em nosso Estado”, poderia ter a preposição inicial substituída adequadamente ao sentido do texto por:

- (A) apesar de;
- (B) por causa de;
- (C) em razão de;
- (D) pois;
- (E) além de.

2

O trecho entre travessões no texto 1 mostra:

- (A) a enumeração de todos os problemas de nosso Estado;
- (B) a explicação de um termo anterior;
- (C) a exemplificação de alguns de nossos problemas;
- (D) a seleção de nossos problemas mais graves;
- (E) a justificativa de uma afirmação.

Texto 2 - “Imagine reunir um grupo diverso de pessoas toda quinta-feira, durante dez anos, para estudar e treinar visões sobre o trabalho do ator e da arte. Imagine que a pessoa que conduz essa iniciativa o faz por crença no ofício, dedicação de uma vida inteira, com apoios eventuais, mas sem nenhum ressentimento. Para aqueles que miram na arte uma forma de estar na vida, a diretora Celina Sodré é um exemplo a ser mirado. Para outros que olham com desdém a profissão de artista de teatro, é uma possibilidade de mudar de ponto de vista”.

(O Globo, 11/04/2017)

3

No texto 2 há um conjunto de verbos no infinitivo; se substituirmos essas formas verbais por substantivos correspondentes, a única frase INCORRETA será:

- (A) “Imagine reunir um grupo” / imagine a reunião de um grupo;
- (B) “para estudar” / para o estudo;
- (C) “treinar visões” / treino de visões;
- (D) “uma forma de estar na vida” / uma forma de estada na vida;
- (E) “uma possibilidade de mudar” / uma possibilidade de mutação.

4

O item do texto 2 que estabelece coesão com um termo anterior, que é uma oração, é:

- (A) “Imagine que a pessoa que conduz essa iniciativa”;
- (B) “Imagine que a pessoa que conduz essa iniciativa”;
- (C) “Para aqueles que miram na arte”;
- (D) “...é um exemplo a ser mirado”;
- (E) “por crença no ofício”.

5

O segmento do texto 2 em que o emprego da preposição DE – com ou sem contração com o artigo - é resultante da exigência de um termo anterior é:

- (A) “um grupo diverso de pessoas”;
- (B) “sobre o trabalho do ator”;
- (C) “dedicação de uma vida inteira”;
- (D) “uma forma de estar na vida”;
- (E) “profissão do artista”.

6

Uma manchete do jornal *Metro*, 11/04/2017, dizia o seguinte: “Se reforma for adiada, direitos serão perdidos”.

A relação lógica entre as duas orações da manchete é:

- (A) uma afirmação seguida de uma explicação;
- (B) uma condição seguida de uma consequência;
- (C) uma consequência seguida de sua causa;
- (D) uma possível causa seguida de uma exemplificação;
- (E) uma opinião seguida de uma conclusão.

7

“A produção industrial do país subiu 0,1% em fevereiro na comparação com o mês anterior, informou o IBGE.

O resultado indica que o setor entrou em fase de estabilidade após forte recessão. Ficou, no entanto, abaixo da expectativa do mercado, de elevação de 0,5%.

Nos últimos 12 meses, a retração acumulada na indústria é de 4,8%”. (Folha de São Paulo, 05/04/2017).

A afirmativa correta sobre o texto acima é:

- (A) a comparação que serve de base para a pesquisa é feita entre os dois últimos meses de fevereiro (2017/2016);
- (B) o mercado esperava que a produção industrial subisse 0,6%;
- (C) a conjunção ‘no entanto’ opõe estabilidade e recessão;
- (D) a expectativa do mercado mostrava um pessimismo que a pesquisa não confirmou;
- (E) a informação prestada pelo jornal mostra um cenário negativo, mas com sinais de mudança.

8

“A produção industrial do país subiu 0,1% em fevereiro na comparação com o mês anterior, informou o IBGE”.

O resultado indica que o setor entrou em fase de estabilidade após forte recessão. Ficou, no entanto, abaixo da expectativa do mercado, de elevação de 0,5%.

Nos últimos 12 meses, a retração acumulada na indústria é de 4,8%”. (*Folha de São Paulo*, 05/04/2017).

Um texto mostra sempre um conjunto de elementos que se repetem e um outro conjunto de novidades; esses dois conjuntos são responsáveis, respectivamente, pela coesão e pelo progresso do texto.

O elemento abaixo que tem seu antecedente corretamente indicado é:

- (A) o resultado / a comparação com o mês anterior;
- (B) o setor / a produção industrial;
- (C) fase de estabilidade / fevereiro de 2017;
- (D) recessão / subiu 0,1% em fevereiro;
- (E) retração acumulada / 4,8%.

9

Abaixo de uma foto da guerra na Síria, o jornal *Folha de São Paulo*, de 05/04/2017, escreveu o seguinte:

“Homem carrega criança morta em ataque com gás que matou ao menos 58 em cidade da Síria”.

O problema de construção dessa frase é:

- (A) a falta de paralelismo;
- (B) o desrespeito pelas regras gramaticais;
- (C) a possível ambiguidade;
- (D) a presença exagerada de linguagem coloquial;
- (E) a ausência de pontuação.

10

Uma sala de um colégio tradicional do Rio mostrava o seguinte cartaz:

“Não pedimos que você limpe a sala. Apenas que não a suje”.

Sobre as frases do cartaz, é correto afirmar que:

- (A) o primeiro período desculpa o aluno que suja a sala;
- (B) o segundo período explica o primeiro;
- (C) o primeiro período obriga o aluno a limpar a sala;
- (D) o segundo período é uma conclusão do primeiro;
- (E) o segundo período considera a ação de não sujar mais fácil que a de limpar.

Raciocínio Lógico Quantitativo

11

O valor da expressão

$2 \cdot (1 - 2 + 3 - 4 + 5 - 6 + 7 - \dots + 2015 - 2016 + 2017)$ é:

- (A) 2014;
- (B) 2016;
- (C) 2018;
- (D) 2020;
- (E) 2022.

12

O apresentador de um programa de auditório mostra no palco três portas, numeradas com 1, 2 e 3, e diz que atrás de cada uma delas há um prêmio: uma bicicleta, uma geladeira e um computador, não necessariamente nessa ordem. O apresentador sorteará uma pessoa do auditório, que deve escolher uma das portas e levar o seu prêmio.

Entretanto, se com as informações recebidas do apresentador a pessoa puder deduzir que objeto há atrás de cada porta, ela ganhará todos os prêmios.

As informações do apresentador são:

- A geladeira não está na porta 1.
- A bicicleta e a geladeira não estão em portas com números consecutivos.

Então, é correto afirmar que:

- (A) a geladeira está na porta 2;
- (B) o computador está na porta 1;
- (C) a bicicleta está na porta 3;
- (D) a bicicleta está na porta 2;
- (E) o computador está na porta 2.

13

Nos anos que possuem 365 dias, ou seja, os anos que não são bissextos, existe um dia que fica no centro do ano. Esse dia central do ano é um dia tal que o número de dias que já passaram é igual ao número de dias que ainda estão por vir. Imagine que em certo ano não bissexto o dia 1º de janeiro tenha sido uma segunda-feira.

Então, nesse ano o dia central foi:

- (A) domingo;
- (B) segunda-feira;
- (C) terça-feira;
- (D) quinta-feira;
- (E) sábado.

14

Suponha que $a \# b$ signifique $a - 2b$.

Se $2 \# (1 \# N) = 12$, então N é igual a:

- (A) 1;
- (B) 2;
- (C) 3;
- (D) 4;
- (E) 6.

15

Considere as seguintes afirmativas:

- Se X é líquido, então não é azul.
- Se X não é líquido, então é vegetal.

Pode-se concluir logicamente que:

- (A) se X é azul, então é vegetal;
- (B) se X é vegetal, então é azul;
- (C) se X não é azul, então não é líquido;
- (D) se X não é vegetal, então é azul;
- (E) se X não é azul, então não é vegetal.

16

Uma equipe de trabalhadores de determinada empresa tem o mesmo número de mulheres e de homens. Certa manhã, $\frac{3}{4}$ das mulheres e $\frac{2}{3}$ dos homens dessa equipe saíram para um atendimento externo.

Desses que foram para o atendimento externo, a fração de mulheres é:

- (A) $\frac{3}{4}$;
- (B) $\frac{8}{9}$;
- (C) $\frac{5}{7}$;
- (D) $\frac{8}{13}$;
- (E) $\frac{9}{17}$.

17

Um quadrado feito com uma fina lâmina de madeira de espessura constante e com densidade homogênea tem 4cm de lado e 12g de massa.

Outro quadrado feito com o mesmo tipo de lâmina de madeira tem 6cm de lado.

A massa desse outro quadrado é:

- (A) 18g;
- (B) 20,5g;
- (C) 24g;
- (D) 27g;
- (E) 32g.

18

O proprietário de um terreno retangular resolveu cercá-lo e, para isso, comprou 26 estacas de madeira. Colocou uma estaca em cada um dos quatro cantos do terreno e as demais igualmente espaçadas, de 3 em 3 metros, ao longo dos quatro lados do terreno.

O número de estacas em cada um dos lados maiores do terreno, incluindo os dois dos cantos, é o dobro do número de estacas em cada um dos lados menores, também incluindo os dois dos cantos.

A área do terreno em metros quadrados é:

- (A) 240;
- (B) 256;
- (C) 324;
- (D) 330;
- (E) 372.

19

Ana e Beto correm em uma pista oval. Eles partiram ao mesmo tempo e no mesmo sentido da pista, mas Ana corre na frente, pois é 20% mais rápida do que Beto.

Quando Ana ultrapassar Beto pela primeira vez, o número de voltas na pista que ela terá completado é:

- (A) 5;
- (B) 6;
- (C) 8;
- (D) 9;
- (E) 10.

20

Na assembleia de um condomínio, duas questões independentes foram colocadas em votação para aprovação. Dos 200 condôminos presentes, 125 votaram a favor da primeira questão, 110 votaram a favor da segunda questão e 45 votaram contra as duas questões.

Não houve votos em branco ou anulados.

O número de condôminos que votaram a favor das duas questões foi:

- (A) 80;
- (B) 75;
- (C) 70;
- (D) 65;
- (E) 60.

Noções de Administração/Situações Gerenciais

21

Uma seguradora tem recebido muitas reclamações dos clientes em relação aos serviços prestados. O gerente de qualidade da empresa quer analisar as informações dos registros de reclamações para identificar os problemas mais frequentes, de forma a priorizar as ações para melhoria dos serviços da seguradora.

Uma ferramenta adequada para isso seria:

- (A) diagrama de Ishikawa;
- (B) *brainstorming*;
- (C) gráfico de Pareto;
- (D) folhas de verificação;
- (E) mapa de processo.

22

Um hospital constatou um problema de atraso nas cirurgias. Algumas das suas causas foram identificadas em aspectos relativos a pessoal, procedimentos e instalações. A diretora responsável pela qualidade dos serviços do hospital quer organizar e analisar as informações, estabelecendo as relações de causa e efeito no problema do atraso nas cirurgias.

Para isso, a diretora deve utilizar a seguinte ferramenta:

- (A) carta de controle;
- (B) histograma;
- (C) gráfico de acompanhamento;
- (D) diagrama de dispersão;
- (E) diagrama espinha de peixe.

23

Um supervisor de equipe de vendas toma suas decisões com foco no curto prazo e nos resultados a serem atingidos. Ele baseia suas decisões nas regras e procedimentos da empresa e raramente considera as opiniões dos subordinados em suas decisões.

O estilo de tomada de decisão do supervisor é conhecido como:

- (A) analítico;
- (B) diretivo;
- (C) comportamental;
- (D) intuitivo;
- (E) conceitual.

24

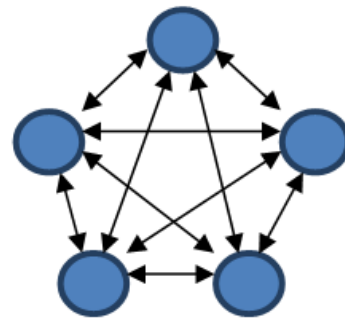
Um gerente precisa decidir entre duas empresas de prestação de serviços de capacitação, para uma ação de treinamento de sua equipe. Ele considerou alguns critérios para comparar as duas empresas (nome no mercado, preço, qualidade do material didático), elaborou uma lista com vantagens e desvantagens de cada possibilidade de decisão, ordenou essas vantagens e desvantagens de acordo com sua relevância e comparou as duas alternativas.

O gerente utilizou uma técnica de apoio à decisão conhecida como:

- (A) matriz de resultados;
- (B) árvore de decisão;
- (C) ordenação simples;
- (D) matriz de prioridades;
- (E) análise de prós e contras.

25

Uma equipe de trabalho de cinco pessoas tinha sua rede de comunicação estruturada de acordo com a hierarquia da empresa, no tipo cadeia. Após uma série de mudanças organizacionais que resultaram em novos desafios para a equipe, a rede de comunicação passou a se estruturar no tipo todos os canais, como representado na figura abaixo.



Esse tipo de rede de comunicação é mais eficaz que a estrutura do tipo cadeia quando o foco está no(a):

- (A) precisão da comunicação;
- (B) atingimento de resultados;
- (C) resolução de conflitos;
- (D) desenvolvimento da liderança;
- (E) satisfação dos membros da equipe.

26

A área de contabilidade de uma empresa pública acaba de receber cinco novos funcionários. Os cinco têm experiência anterior em outras empresas, mas na iniciativa privada. O gerente responsável pela área está preocupado com a qualidade dos processos e acredita que seria interessante estabelecer algum tipo de controle simultâneo para garantir que o trabalho dos novos funcionários seja executado de acordo com os padrões estabelecidos para a área.

Considerando o exposto, um controle adequado seria:

- (A) estabelecimento de regras de conduta;
- (B) controle estatístico de processo;
- (C) avaliação de desempenho;
- (D) supervisão direta;
- (E) estabelecimento de limites de alçada.

27

O diretor administrativo de uma empresa criou um grupo de trabalho para propor alternativas para melhoria na qualidade dos serviços ao cliente. Os principais problemas haviam sido detectados a partir das reclamações dos clientes e diziam respeito aos prazos de entrega dos produtos. O diretor selecionou cinco funcionários com alto desempenho e grande conhecimento da empresa e do mercado e estipulou o prazo de três meses para a apresentação de propostas. O grupo se reuniu por diversas vezes. Em todas as reuniões apenas os funcionários A e B analisavam as informações, propunham soluções e discutiam alternativas viáveis. Os demais limitavam-se a esperar as análises elaboradas por A e B e dar algumas sugestões pontuais, alegando que “A e B são muito experientes, podemos confiar neles para apresentar um bom trabalho pelo grupo”.

A situação retrata um fenômeno comum nos grupos de trabalho, conhecido como:

- (A) pensamento de grupo;
- (B) folga social;
- (C) regressão à média;
- (D) conformidade;
- (E) conflito de papéis.

28

À medida que os administradores vão ocupando cargos nos diferentes níveis organizacionais, a importância relativa das habilidades necessárias ao desempenho adequado de seus papéis vai mudando.

No nível operacional são mais relevantes as habilidades:

- (A) conceituais;
- (B) comportamentais;
- (C) técnicas;
- (D) analíticas;
- (E) humanas.

29

Uma administradora recém-formada decidiu prestar concurso para um importante órgão público. Ela declarou que o principal motivo de realizar o concurso era buscar a “estabilidade no emprego”.

Segundo a hierarquia das necessidades de Maslow, a motivação da administradora é satisfazer uma necessidade do tipo:

- (A) fisiológica;
- (B) de segurança;
- (C) social;
- (D) de estima;
- (E) de autorrealização.

30

Uma empresa que opera em um ambiente estável está passando por uma redefinição da sua estratégia de negócio e quer adotar uma estrutura organizacional que permita maximizar a eficiência operacional, via economia de escala e uso eficiente dos recursos. Para isso, dentre as opções abaixo, a estrutura mais adequada seria:

- (A) funcional;
- (B) divisional;
- (C) matricial;
- (D) em rede;
- (E) por produto.

31

O presidente de uma empresa estatal quer aprimorar o controle no nível estratégico. Ele quer utilizar indicadores que permitam monitorar o desempenho global da organização na realização de sua missão, estratégias e objetivos.

É um indicador adequado para isso:

- (A) rentabilidade da empresa;
- (B) tempo de ciclo;
- (C) volume de vendas;
- (D) número de reclamações dos clientes;
- (E) número de sugestões de melhoria.

32

A XPTO atua há muito tempo no setor químico, alcançando uma posição de destaque no mercado, apoiada em uma estratégia de liderança em custos. Recentemente, o ambiente em que a empresa atua tornou-se mais dinâmico e complexo, com a entrada de concorrentes e surgimento de inovações nas tecnologias de produção. A XPTO está reformulando sua estratégia, priorizando a inovação em produtos e processos, ao mesmo tempo em que busca estimular a tomada de decisão compartilhada. Para dar sustentação à nova estratégia, a empresa pretende alterar a estrutura atual de funcional para matricial, criando grupos de projetos formados por funcionários das diversas áreas da empresa.

Entre as vantagens da nova estrutura em relação à anterior, encontra-se:

- (A) redução dos conflitos;
- (B) facilitação da cooperação entre departamentos;
- (C) centralização da tomada de decisão;
- (D) facilitação da coordenação do trabalho;
- (E) facilitação da responsabilização.

33

Em um país, três empresas do setor elétrico formaram uma associação com o objetivo de pressionar o governo para alterar a legislação ambiental relativa à construção de hidrelétricas.

Esse tipo de estratégia organizacional voltada para alterar o ambiente externo é conhecida como:

- (A) cooptação;
- (B) fusão;
- (C) monitoramento do ambiente;
- (D) transposição de fronteiras;
- (E) coalização.

34

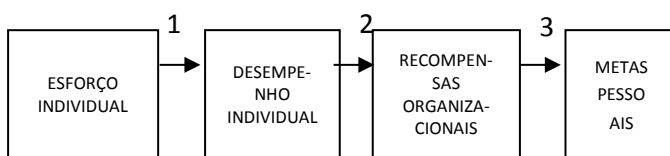
O planejamento é a função administrativa responsável pela definição dos objetivos da organização e pela concepção de planos que integrem e coordenem suas atividades. Um dos elementos essenciais do processo de planejamento é o estabelecimento de objetivos que explicitem os resultados que se deseja alcançar, fornecendo senso de direção para as ações e esforços organizacionais.

Objetivos eficazes devem ser adequadamente formulados, atendendo a certos critérios, tais como:

- (A) serem específicos;
- (B) estarem de acordo com o ambiente externo;
- (C) serem inovadores;
- (D) serem abrangentes;
- (E) estarem dentro do orçamento previsto.

35

O esquema abaixo ilustra uma teoria de motivação bastante difundida na área de administração.



- 1 - relação esforço-desempenho;
- 2 - relação desempenho-recompensa;
- 3 - relação recompensa-metas pessoais.

Essa teoria é conhecida como:

- (A) do reforço;
- (B) do estabelecimento de objetivos;
- (C) da avaliação cognitiva;
- (D) da expectativa;
- (E) das necessidades de McClelland.

36

O diretor da área comercial de uma empresa quer que os vendedores tenham maior autonomia de decisão, como forma de responder às variadas demandas dos clientes. Ele acredita que a descentralização nas decisões dará maior rapidez na resposta aos clientes e também maior motivação aos vendedores.

No entanto, a descentralização também tem desvantagens, entre elas:

- (A) sobrecarga no trabalho decisório dos chefes;
- (B) dificuldade de responsabilização dos funcionários;
- (C) perda de uniformidade nas decisões;
- (D) perda na qualidade das decisões;
- (E) lentidão no *feedback* sobre a qualidade do trabalho junto aos clientes.

37

Um gestor quer levantar qual o dispêndio total da empresa com a remuneração de seus funcionários. O gerente identificou que a empresa, além do salário, férias, 13º salário e demais exigências legais, adota os seguintes componentes de remuneração: remuneração variável, prêmios em viagens, distribuição de ações e seguro de saúde.

Esses quatro componentes da remuneração total são classificados, respectivamente, como:

- (A) incentivos salariais; incentivos não financeiros; incentivos não financeiros; benefícios;
- (B) remuneração básica; benefícios; benefícios; incentivos não financeiros;
- (C) benefícios; incentivos não financeiros; incentivos salariais; incentivos não financeiros;
- (D) incentivos salariais; benefícios; incentivos salariais; benefícios;
- (E) remuneração básica; incentivos não financeiros; incentivos salariais; benefícios.

38

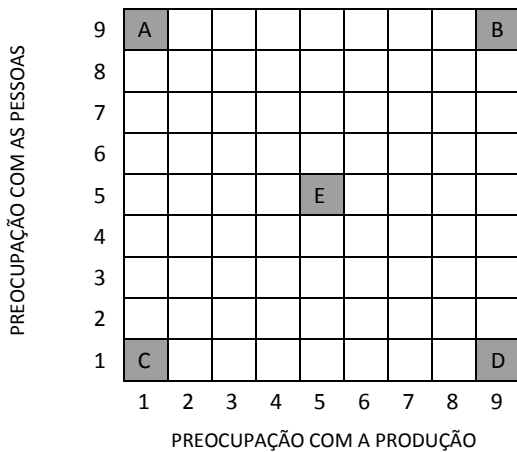
Em uma empresa de médio porte, o método de avaliação de desempenho é do tipo escalas gráficas.

Uma desvantagem desse método é a:

- (A) dificuldade de planejamento do instrumento de avaliação;
- (B) complexidade da aplicação;
- (C) superficialidade e subjetividade na avaliação;
- (D) dificuldade na comparação dos resultados dos diversos funcionários;
- (E) complexidade na visualização dos fatores de avaliação considerados.

39

A figura abaixo representa um instrumento conhecido como grade gerencial, proposto por Blake e Mouton.



As letras A, B, C, D e E representam os cinco principais estilos de liderança identificados pelo modelo de Blake e Mouton. Sobre esses tipos de liderança, é correto afirmar que:

- (A) C é o líder negligente, orientado para as necessidades dos funcionários e para a promoção de um ambiente amigável;
- (B) D é o líder de equipe, voltado para a produção e o atingimento de objetivos;
- (C) E é o líder meio-termo, considerado o estilo de liderança mais eficaz pelo modelo;
- (D) B é o líder de equipe, considerado o estilo de liderança mais eficaz pelo modelo;
- (E) A é o líder orientado para pessoas, considerado o estilo de liderança mais eficaz pelo modelo.

40

A empresa de petróleo XYZ possui terras que podem ter petróleo. Um estudo técnico indicou que as chances de haver petróleo nas terras é de 1 em 4. Uma empresa concorrente quer comprar as terras e fez uma oferta de compra de R\$800.000,00. A XYZ sabe que o custo de perfurar um poço de petróleo nas terras é de R\$200.000,00. Se for encontrado petróleo nas terras, o retorno esperado é de R\$3.000.000,00 gerando um lucro de R\$2.800.000,00. A empresa quer analisar a decisão pelo critério do maior valor esperado.

Por esse critério, a melhor decisão a tomar e o valor esperado dela são, respectivamente:

- (A) perfurar o poço, com valor esperado de R\$2.800.000,00;
- (B) vender a terra, com valor esperado (certeza) de R\$800.000,00;
- (C) vender a terra, com valor esperado de R\$780.000,00;
- (D) perfurar o poço, com valor esperado de R\$550.000,00;
- (E) indiferente, pois o valor esperado das decisões é o mesmo.

Conhecimentos Técnicos

41

Pedro perguntou para Paulo o que o resultado do levantamento dos dados coletados no Censo Agropecuário 2017 irá mostrar. Paulo respondeu:

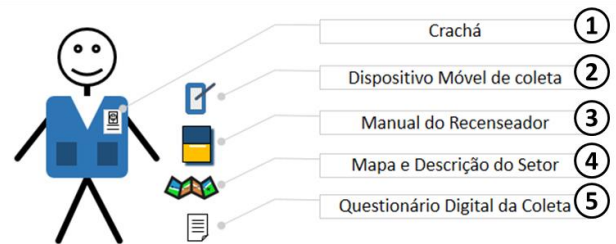
- I. A política de redistribuição de terras e a expansão das fronteiras agrícolas.
- II. O uso das práticas agrícolas, de conservação do solo e de tecnologias que envolvem a agropecuária.
- III. As transformações nas atividades agropecuárias ocorridas nos últimos quinze anos.

Está correto o que Paulo afirmou em:

- (A) somente I;
- (B) somente II;
- (C) somente III;
- (D) somente I e II;
- (E) I, II e III.

42

Observe a figura abaixo que enumera o material de trabalho utilizado pelo recenseador.



Associe a coluna abaixo, relacionando o material do recenseador com as suas respectivas descrições.

- () orienta o recenseador no setor de trabalho, mostrando graficamente a área a ser recenseada e descrevendo seus limites;
- () credencial que identificará o recenseador como representante oficial do IBGE;
- () instrumento que contém as instruções e os procedimentos da coleta;
- () computador de mão que estará habilitado a registrar, armazenar e transmitir os dados coletados para o Banco de Dados do IBGE;
- () instrumento onde são registradas as informações sobre os estabelecimentos agropecuários.

A relação correta é:

- (A) 2-1-4-3-5
- (B) 4-1-3-2-5
- (C) 3-2-5-1-4
- (D) 4-5-1-3-2
- (E) 3-1-2-5-4

43

Os dados do Censo Agropecuário 2017 serão coletados por meio de um Dispositivo Móvel de Coleta que conterà os dados referentes ao Setor Censitário, tais como:

- (A) mapa digital, cadastro de endereços e coordenadas geográficas;
- (B) questionário digital, mapa digital e formulário digital;
- (C) manual do recenseador, mapa digital e cadastro de endereços;
- (D) cadastro de endereços, questionário digital, manual do recenseador;
- (E) manual do recenseador, formulário digital e coordenadas geográficas.

44

Dentre os envolvidos no Censo Agropecuário 2017, a pessoa física, independente de sexo, que assume a responsabilidade técnica e/ou administrativa da gestão do estabelecimento agropecuário em nome do produtor é o:

- (A) Supervisor;
- (B) Gerente;
- (C) Administrador;
- (D) Proprietário;
- (E) Pesquisador.

45

As informações a serem coletadas no Censo devem ter um marco no tempo, ou seja, um corte. Para tal, foram definidos os seguintes marcos:

- 1 - Período de referência
- 2 - Data de referência

Associe a coluna abaixo, relacionando os marcos com os dados a serem coletados.

- () produção vegetal
- () movimento de animais
- () efetivos de animais
- () áreas que compõem o estabelecimento
- () características do estabelecimento

A relação correta é:

- (A) 1, 2, 2, 1 e 1;
- (B) 2, 2, 1, 2 e 1;
- (C) 2, 1, 1, 1 e 2;
- (D) 1, 1, 2, 2 e 1;
- (E) 1, 2, 2, 1 e 2.

46

Paulo sabe que para ter êxito em seu trabalho como recenseador necessita cumprir as tarefas que são de sua responsabilidade, tais como:

- (A) coletar todos os dados na área sob a sua responsabilidade e nas adjacências para obter redundância de dados;
- (B) verificar semanalmente a existência de pendências do seu trabalho;
- (C) guardar o Dispositivo Móvel de Coleta em local seguro para o próximo Censo;
- (D) entregar ao coordenador os dados coletados diariamente;
- (E) comparecer ao Posto de Coleta, responsável por sua área de trabalho, nos dias determinados pelo supervisor.

47

Dentre as unidades da área de Paulo, a que deve ser recenseada é o(a):

- (A) quintal da residência de Dona Maria, onde são cultivadas plantas medicinais utilizadas para fazer xaropes e chás;
- (B) terreno nos fundos da casa do Senhor José, onde há uma plantação de aipim;
- (C) horta doméstica cultivada pelo Senhor Pedro para ocupar seu tempo;
- (D) hotel-fazenda de Dona Vera, que cultiva rosas vermelhas para aromatizar o ar e servir de atração turística;
- (E) chácara do Senhor Paulo, que possui uma plantação de alface no sistema hidropônico.

48

Analise a seguinte lista de estabelecimentos que apresentam exploração agropecuária.



I. Conventos, asilos e orfanatos.



II. Prisões, patronatos e reformatórios.



III. Escolas profissionais, locais para lazer e hospitais.

Serão recenseados os estabelecimentos listados em:

- (A) somente I;
- (B) somente II;
- (C) somente III;
- (D) somente I e II;
- (E) I, II e III.

49

O Censo Agropecuário 2017 é de suma importância para o Governo e para os setores privado e acadêmico, uma vez que:

- (A) oferece suporte ao planejamento e à implementação de políticas públicas e privadas;
- (B) permite a formulação de estratégias de gestão e ações de planejamento para produção industrial;
- (C) proporciona apoio às pesquisas de desenvolvimento rural e urbano do país;
- (D) avalia as ações e as políticas em implantação sobre o desenvolvimento urbano nas proximidades rurais;
- (E) utiliza diferentes variáveis básicas, permitindo a investigação de diferentes aspectos a cada Censo.

50

Ao estudar o material do recenseador, Paulo leu a seguinte frase.

Retratar o Brasil com informações necessárias ao conhecimento de sua realidade e ao exercício da cidadania.

A frase lida por Paulo refere-se à (ao):

- (A) Processo de Coleta;
- (B) Missão do IBGE;
- (C) Objetivo do Recenseador;
- (D) Atividade do Produtor;
- (E) Responsabilidade do Administrador.

Realização

