



Instituto Brasileiro de Geografia e Estatística
Censo Experimental 2019

RECENSEADOR

Código da Prova

R01 X
TARDE

 Verifique se o código da prova é o mesmo do seu cartão de respostas

 Duração da prova: **4 horas**

**TRANSCREVA, EM ESPAÇO DETERMINADO NO SEU CARTÃO DE RESPOSTAS,
A FRASE DE ALBERT EINSTEIN PARA O EXAME GRAFOTÉCNICO**

“No meio da dificuldade encontra-se a oportunidade.”

ATENÇÃO

Este caderno contém cinquenta questões de múltipla escolha, cada uma com cinco alternativas de resposta – A, B, C, D e E – conforme disposição abaixo.

**Verifique se este material está em ordem, caso contrário, notifique imediatamente o fiscal.
O tempo de duração da prova inclui o preenchimento do cartão de respostas.**

LEIA AS INSTRUÇÕES ABAIXO:

Siga, atentamente, a forma correta de preenchimento do cartão de respostas, conforme estabelecido no próprio. O cartão de respostas é personalizado, impossibilitando a substituição.

Por motivo de segurança:

- O candidato só poderá retirar-se definitivamente da sala após 2 (duas) horas e 30 (trinta) minutos do início efetivo da prova
- Somente faltando 30 (trinta) minutos para o término da prova, o candidato poderá retirar-se levando o seu caderno de questões
- O candidato que optar por se retirar sem levar o seu caderno de questões não poderá copiar suas respostas por qualquer meio. O descumprimento dessa determinação acarretará a eliminação do candidato
- Ao terminar a prova, o candidato deverá se retirar imediatamente do local, não sendo possível nem mesmo a utilização dos banheiros e/ou bebedouros.

Ao terminar a prova, é de sua responsabilidade entregar ao fiscal o cartão de respostas assinado. Não se esqueça dos seus pertences. Os três últimos candidatos deverão permanecer na sala até que o último candidato entregue o cartão de respostas. O fiscal de sala não está autorizado a alterar quaisquer dessas instruções. Em caso de dúvida, solicite a presença do coordenador local.

Língua Portuguesa

Empresa alfabetiza auxiliares de limpeza em vez de demiti-los por não saberem ler

Nátaly Bonato é community manager da WeWork Paulista, um espaço de trabalho compartilhado, na Avenida Paulista, em São Paulo. Para resolver problemas de limpeza da unidade, Nátaly imaginou que um relatório seria o suficiente.

O relatório deveria ser preenchido pelos funcionários da limpeza todos os dias dizendo se a sala do cronograma tinha sido limpa e, caso não, colocar um comentário explicando o porquê.

“O relatório demorou uma semana para chegar e, quando veio, o banheiro virou um caos. Não entendi nada, nos reunimos e a descoberta foi que 50% do time (terceirizado) era iletrado”, [escreveu Nátaly no Facebook](#).

Em vez de trocar a equipe [o que infelizmente é uma prática bastante recorrente], Nátaly teve uma ideia muito melhor: procurar nas escolas que fazem parte da WeWork alguém que pudesse alfabetizar os auxiliares de limpeza. Foi assim que ela conheceu a pedagoga Dani Araujo, da MasterTech, que topou o desafio.

“As pessoas não são descartáveis. Eu não queria que alguém passasse pela minha vida sem ter o meu melhor, sem que eu pudesse tentar. Então, eu não queria que eles saíssem daqui um dia e continuassem tendo aquelas profissões porque eles não tinham escolha”, disse Nátaly em entrevista ao Razões para Acreditar.

As aulas aconteciam às terças e quintas-feiras, no horário de almoço, e duravam 1 hora e meia. “Foi ousado participar desse projeto. Não tinha experiência com letramento para adultos. Vibrei e chorei com cada conquista que fazíamos juntos, me sinto privilegiada pelo aprendizado que eles me proporcionaram”, afirmou a pedagoga, que continuou dando as aulas mesmo depois de se desligar da MasterTech.

Cinco meses depois, Irene, Neuraci e ‘Madruga’ já conseguiam escrever uma carta. Para celebrar essa conquista, Nátaly e seu time organizaram uma formatura surpresa. “Na hora que eu vi eles vindo de beca, eu comecei a desfalecer de chorar e não só eu! Todo mundo. A gente fez na área comum da WeWork”, lembra Nátaly. “Foi muito incrível mesmo. Acho que é a melhor experiência da minha vida”.

E eles tiveram inclusive “formatura” com direito à beca e tudo!

Por Redação. Disponível em:

<https://razoesparaacreditar.com.08/01/2018>. Acesso em 05/07/2019

Questão 1

Assinale a opção correta de acordo com o texto.

- (A) O trabalho de limpeza dos banheiros não pôde ser concluído, porque a gerente não foi clara em suas orientações.
- (B) De acordo com o texto, antes de demiti-los, as empresas costumam solucionar problemas inerentes à competência dos funcionários.
- (C) A gerente se mostrou sensibilizada com o problema dos funcionários e procurou resolvê-lo em vez de desligá-los da empresa.
- (D) A gerente Nátaly Bonato se conformou com o fato de sua equipe ser iletrada e se reuniu com outros funcionários para retificar os itens do relatório a ser preenchido.
- (E) Não era da competência de Nátaly Bonato gerenciar funcionários terceirizados que apresentavam problemas no cumprimento de suas tarefas.

Questão 2

No contexto do primeiro parágrafo, o trecho destacado em: “PARA RESOLVER PROBLEMAS DE LIMPEZA DA UNIDADE, Nátaly imaginou que um relatório seria o suficiente.” expressa a seguinte ideia de:

- (A) condição.
- (B) objetivo.
- (C) proporção.
- (D) comparação.
- (E) intensidade.

Questão 3

A palavra destacada no trecho “colocar um comentário explicando o PORQUÊ” pode assumir grafias diferentes, dependendo do contexto. Assinale a única opção em que a palavra destacada foi corretamente grafada.

- (A) Eu não sabia POR QUE eles haviam sido despedidos.
- (B) PORQUE eles foram despedidos?
- (C) Eles foram despedidos POR QUE?
- (D) Foram despedidos, POR QUE eram iletrados.
- (E) Continuaram no emprego, PORQUÊ estudaram.

Questão 4

Se redigido na voz ativa, o verbo da frase O RELATÓRIO DEVERIA SER PREENCHIDO PELOS FUNCIONÁRIOS DA LIMPEZA deve assumir a seguinte forma:

- (A) será preenchido.
- (B) seria preenchido.
- (C) deveria preencher.
- (D) seriam preenchidos.
- (E) deveriam preencher.

Questão 5

No título do texto, as palavras EMPRESA e LIMPEZA foram corretamente grafadas. Assinale a opção em que a palavra destacada também está escrita de acordo com a ortografia oficial.

- (A) Eles ENFATISARAM o problema.
- (B) O resultado da PESQUIZA não agradou.
- (C) Tudo foi feito com muita DELICADESA.
- (D) A gerente ANALISOU o relatório.
- (E) Eles conseguiram FINALISAR o projeto.

Questão 6

No trecho: "NÁTALY TEVE UMA IDEIA MUITO MELHOR: PROCURAR NAS ESCOLAS QUE FAZEM PARTE DA WEWORK ALGUÉM QUE PUDESSE ALFABETIZAR OS AUXILIARES DE LIMPEZA," os dois pontos foram corretamente empregados para:

- (A) anunciar um esclarecimento.
- (B) separar o aposto.
- (C) separar o vocativo.
- (D) anunciar uma citação.
- (E) Indicar suspensão do pensamento.

Questão 7

No sexto parágrafo do texto, encontram-se as frases: "FOI OUSADO PARTICIPAR DESSE PROJETO." e "NÃO TINHA EXPERIÊNCIA COM LETRAMENTO PARA ADULTOS.". Assinale a alternativa que poderia ligar as duas frases em sequência lógica, sem alterar o sentido do trecho.

- (A) no entanto
- (B) a fim de que
- (C) porque
- (D) conforme
- (E) contudo

Questão 8

Assinale a opção em que a palavra destacada foi acentuada de acordo com a mesma regra de acentuação do verbo SAIR em: EU NÃO QUERIA QUE ELES SAÍSSEM.

- (A) No ÍNTIMO, eles sabiam a verdade
- (B) Aqueles funcionários eram INCANSÁVEIS
- (C) Todos os trabalhos eram pedidos com URGÊNCIA.
- (D) Cerca de um entre TRÊS brasileiros não é capaz de assinar o próprio nome
- (E) Depois que se machucou, os pés ficaram DOÍDOS por um bom tempo

Questão 9

A concordância está correta em AS AULAS(...)DURAVAM 1 HORA E MEIA, assim como em:

- (A) Todos estavam bastantes confiantes no sucesso.
- (B) Surgiu vários problemas durante o processo.
- (C) Haviam alguns funcionários com problemas financeiros.
- (D) Ela ficou meio decepcionada com a situação.
- (E) É necessário a sua colaboração na limpeza.

Questão 10

Assinale a opção em que a o acento indicativo de crase foi corretamente empregado, como em COM DIREITO À BECA E TUDO.

- (A) Eles vinham à pé para o trabalho.
- (B) Vocês assistiram à que reunião?
- (C) Todos estavam dispostos à colaborar.
- (D) Entregamos o relatório diretamente à ela.
- (E) Era importante obediência às orientações.

Questão 11

No título do texto, o trecho POR NÃO SABEREM LER pode ser substituído, sem alteração de sentido, por:

- (A) contanto que não saibam ler
- (B) ao saberem ler
- (C) embora não soubessem ler
- (D) porque não sabiam ler
- (E) ao mesmo tempo que não sabiam ler

Questão 12

Em uma das opções abaixo, o termo destacado foi corretamente substituído pelo pronome oblíquo. Assinale-a.

- (A) Para resolver PROBLEMAS DE LIMPEZA DA UNIDADE/
Para resolvê-la
- (B) continuassem tendo AQUELAS PROFISSÕES/
continuassem tendo-las
- (C) organizaram UMA FORMATURA SURPRESA/
organizaram-na
- (D) já conseguiam escrever UMA CARTA/já conseguiram
escrever-lhe
- (E) não tinham ESCOLHA/ não lhe tinham

Questão 13

O substantivo QUINTAS-FEIRAS foi corretamente flexionado no texto. Assinale a opção em que a palavra destacada também está correta no plural.

- (A) Os guardas-noturnos não eram funcionários da
empresa
- (B) Os guardas-roupas dos funcionários ficavam no
primeiro andar
- (C) Os funcionários assinaram os abaxios-assinados
- (D) Aquelas eram verdadeiras obras-prima
- (E) Dois beijas-flores apareceram no jardim

Questão 14

Em uma das opções, a classe gramatical da palavra destacada foi corretamente identificada entre parênteses. Assinale-a.

- (A) funcionários da LIMPEZA todos os dias [adjetivo]
- (B) o banheiro virou um CAOS. [substantivo]
- (C) procurar nas escolas QUE fazem parte [conjunção]
- (D) no horário do almoço E duravam 1 hora [preposição]
- (E) é uma PRÁTICA bastante recorrente [verbo]

Questão 15

Assinale a opção em que o verbo destacado foi corretamente flexionado.

- (A) Espero que eles DÊM mais atenção aos clientes
- (B) Se eles MANTESSEM a palavra, os funcionários não
seriam demitidos
- (C) Se você VER o diretor por aí, me avise
- (D) Ele PUNHA defeito em tudo
- (E) Os funcionários VEM de uniforme ao trabalho

Matemática**Questão 16**

O IBGE é o principal provedor de dados e informações estatísticas do país, trabalhando pesquisas que atendem a sociedade civil e os órgãos das esferas governamentais. Considere que três de suas diferentes pesquisas A, B e C sejam realizadas periodicamente de 3 em 3 anos, de 4 em 4 anos e de 10 em 10 anos, respectivamente. Se no ano de 2006 as pesquisas A, B e C ocorreram simultaneamente e supondo que a periodicidade dessas três pesquisas se mantenha ao longo dos próximos anos, após 2006, o primeiro ano em que A, B e C novamente ocorrerão de forma simultânea é:

- (A) 2126.
- (B) 2060.
- (C) 2120.
- (D) 2066.
- (E) 2666.

Questão 17

Para organizar o seu serviço, o recenseador Carlos pensou em duas opções para o mês de outubro: pesquisar $\frac{1}{4}$ do total de residências que ficaram sob a sua responsabilidade ou $\frac{1}{3}$ dessas. Considerando apenas estas duas opções de organização, caso ele dê preferência por entrevistar o maior número de residências em outubro, ele terá 45 residências a mais em outubro. Neste caso, quantas residências faltarão ser entrevistadas por Carlos, após o final de outubro?

- (A) 180
- (B) 360
- (C) 240
- (D) 135
- (E) 225

Questão 18

Ao inserir os dados coletados de sua pesquisa em uma planilha, Jorge obteve três percentuais distintos dados em decimais pela sequência (0,444 ...; 0,0161616 ...; 0,121212 ...) que equivale à sequência de frações irredutíveis (a/b ; c/d ; e/f).

Sendo assim, o valor da soma $a + b + c + d + e + f$ é:

- (A) 553.
- (B) 1.056.
- (C) 165.
- (D) 1.130.
- (E) 627.

Questão 19

Uma pesquisa realizada em um condomínio com 150 casas ilustrou a seguinte situação:

Nº de casas entrevistadas	Nº de moradores por casa	Nº de banhos diários por morador
12	1	2
10	2	1
25	2	2
11	2	3
17	3	1
40	3	2
5	3	3
7	4	1
16	4	2
7	5	2

Supondo que cada banho dos moradores deste condomínio gaste exatamente 150 litros de água, em números absolutos, quantos mil litros de água são consumidos, em um mês (30 dias), pelas residências em que cada morador toma 2 banhos diários? Considere apenas a água gasta com banho.

- (A) 1125
- (B) 135
- (C) 2529
- (D) 1444
- (E) 940

Questão 20

A fim de facilitar as pesquisas em um determinado município, o IBGE dividiu a área total a ser pesquisada em três regiões de acordo com o número aproximado de habitantes por região e também levando em consideração a dificuldade de acesso aos locais. Desta forma, a região sul ficou com cerca 72.000 habitantes, a região central com cerca de 48.000 habitantes e a região norte com cerca de 46.000 habitantes.

Sabe-se que o censo foi realizado pelo menor número possível de recenseadores, que cada um realizou pesquisa em apenas uma das três regiões e com o mesmo número de habitantes que os demais recenseadores.

Supondo exatos todos os dados fornecidos e que para esta pesquisa todos os 166.000 habitantes deverão responder as perguntas do censo, determine o número de recenseadores que trabalharam nesta pesquisa.

- (A) 47
- (B) 48
- (C) 59
- (D) 60
- (E) 83

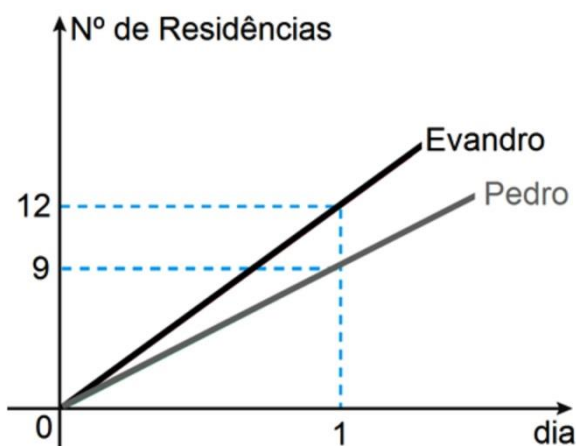
Questão 21

Evandro e Pedro são dois recenseadores do IBGE e seus respectivos salários dependem de uma série de fatores.

A tabela abaixo ilustra os valores recebidos por Evandro e Pedro ao dia.

Recenseador	Salário ao dia (R\$)
Evandro	100,00
Pedro	120,00

O gráfico mostra a quantidade de residências entrevistadas por dia.



Pode-se afirmar que a razão entre o salário ao dia por número de residências entrevistadas dos recenseadores Pedro e Evandro, nesta ordem é de:

- (A) 5/8.
- (B) 8/5.
- (C) 3/4.
- (D) 4/3.
- (E) 12/7.

Questão 22

Considere X e Y dois números inteiros e positivos que são respectivamente numerador e denominador de uma fração f . Ao somar três unidades ao numerador e ao denominador desta fração, $f = 2$, mas ao somar uma unidade apenas no numerador desta fração, $f = 3$. Neste caso, o valor de $X + Y$ é:

- (A) 15.
- (B) 14.
- (C) 13.
- (D) 12.
- (E) 11.

Questão 23

Ricardo leva exatamente 30 dias para dar conta de coletar todos os dados necessários para uma pesquisa sobre saneamento básico em uma determinada comunidade, já Francisco, sob as mesmas condições de trabalho e trabalhando o mesmo número de horas por dia realiza este mesmo trabalho em exatos 45 dias.

Se os dois trabalhassem nesta mesma comunidade simultaneamente, em quantos dias eles terminariam o serviço?

- (A) 38
- (B) 25
- (C) 20
- (D) 18
- (E) 15

Questão 24

Fernanda e Marcos são dois funcionários do IBGE. A Fernanda trabalha nesta instituição há 12 anos e o Marcos 3 anos a menos do que a Fernanda. Devido a uma mudança interna de escritórios, eles ficaram com a tarefa de inventariar todos os aparelhos eletrônicos do escritório.

Por ordens da coordenadoria de seus respectivos setores, eles dividiram o total de eletrônicos entre si, na razão inversamente proporcional aos seus respectivos tempos de trabalho, em anos, na instituição.

Após feitas as contas, sabe-se que Fernanda ficou de inventariar 16 eletrônicos a menos que Marcos. Neste caso, determine o total de eletrônicos neste escritório.

- (A) 128
- (B) 64
- (C) 144
- (D) 98
- (E) 112

Questão 25

A empresa responsável pela produção dos aparelhos eletrônicos utilizados nos censos realizados pelo IBGE forneceu estas máquinas na promoção, há 5 anos, com 20% de desconto.

Hoje, com os reajustes necessários, ela cancelou a promoção e as máquinas deverão voltar ao seu valor original, antes do desconto de 20%, e para tal deverá sofrer um aumento de:

- (A) 20,0%.
- (B) 22,5%.
- (C) 25,0%.
- (D) 27,5%.
- (E) 30,0%.

Conhecimentos Técnicos**Questão 26**

Entre as principais pesquisas feitas pelo IBGE, encontra-se o Censo Demográfico, que é a operação realizada a cada:

- (A) 15 anos.
- (B) 10 anos.
- (C) 5 anos.
- (D) 20 anos.
- (E) 2 anos.

Questão 27

A imagem abaixo exemplifica um:



- (A) distrito.
- (B) posto de Coleta.
- (C) subdistrito.
- (D) setor Censitário.
- (E) município.

Questão 28

Qual o instrumento que reúne os conceitos, as definições, os procedimentos e as orientações necessárias ao desempenho das atividades de um recenseador e ao registro das informações?

- (A) Dispositivo Móvel de Coleta (DMC)
- (B) Mapa do setor censitário (em papel)
- (C) Manual do Recenseador
- (D) Mapa do setor censitário digital
- (E) Questionário básico

Questão 29

Maria e Joana são recenseadoras. Maria perguntou a Joana se seu filho José poderia usar, no seu trabalho de escola, alguns dados da pesquisa realizada no censo demográfico, como nomes e endereços dos informantes. Joana deverá responder que:

- (A) sim, pois os dados podem ser usados para fins educacionais.
- (B) não, pois as informações têm caráter sigiloso e usadas exclusivamente para fins estatísticos.
- (C) sim, pois não há nenhuma previsão legal sobre sigilo das informações.
- (D) não, pois os outros pais podem não gostar da divulgação dos seus nomes e reclamarem com o Diretor da escola.
- (E) sim, pois a violação do sigilo por recenseadores do IBGE não está sujeita a qualquer punição.

Questão 30

A data de referência para o Censo Experimental 2019 é o dia:

- (A) 31 de outubro de 2019.
- (B) 23 de setembro de 2019.
- (C) 01 de agosto de 2019.
- (D) 22 de novembro de 2019.
- (E) 31 de agosto de 2019.

Questão 31

Cômodo é todo compartimento coberto por um teto, limitado por paredes e que seja parte integrante do domicílio. Com base nesse conceito, considera(m)-se cômodo(s):

- (A) garagem
- (B) varandas abertas
- (C) mezanino
- (D) banheiro
- (E) cozinha americana

Questão 32

O Recenseador José, durante seu trabalho de campo, encontrou um trecho retangular de uma área urbana, delimitado por uma estrada de ferro.

A partir de seus conhecimentos adquiridos no IBGE, José identificou aquele trecho como um (a):

- (A) Face
- (B) Logradouro
- (C) Quadra
- (D) Loteamento
- (E) Posto de Coleta

Questão 33

Cada Setor Censitário recebe uma classificação de acordo com suas características geográficas. Deste modo, estabeleça a correta correspondência da coluna I com a coluna II.

Coluna I

1. Área urbana de alta densidade de edificações
2. Área urbana de baixa densidade de edificações
3. Núcleo Urbano
4. Aglomerado rural
5. Área rural (exclusive aglomerado)

Coluna II

- () Área urbana com baixa densidade de edificações, processos de expansão urbana, áreas verdes desabitadas, entre outras
- () Área de uso rural caracterizada pela dispersão de domicílios e pela presença usual de estabelecimentos agropecuários.
- () Aglomerações urbanas separadas das cidades e vilas em menos de 1km ou que, superando essa distância, apresentem características urbanas (loteamento, conjuntos habitacionais e condomínios).
- () Área urbana com alta densidade de edificações.
- () Caracterizam-se pelo caráter aglomerado de domicílios, normalmente distantes entre si não mais que 50 m, e separados da franja das cidades e vilas em mais de 1 km, com a exceção aplicada aos núcleos urbanos.

- (A) 3, 4, 2, 1, 5
- (B) 5, 2, 3, 1, 4
- (C) 2, 5, 4, 1, 3
- (D) 2, 3, 5, 4, 1
- (E) 2, 5, 3, 1, 4

Questão 34

Antônia, ao trabalhar como recenseadora, percebeu que um questionário tinha menor número de quesitos, em que seriam registradas as características do domicílio e de seus moradores na data de referência.

Diante dessa observação, responda a qual questionário se refere e se deverá aplicar os quesitos desse questionário a todos os domicílios:

- (A) Básico e sim.
- (B) Da Amostra e não.
- (C) Primário e sim
- (D) Da Amostra e sim.
- (E) Básico e não.

Questão 35

Quais são os dois instrumentos de trabalho disponíveis, durante a coleta de dados, ao recenseador?

- (A) Lista prévia de endereços e o Questionário Básico.
- (B) Mapa do Setor Censitário (em papel) e a lista prévia de endereços.
- (C) Mapa do Setor Censitário (em papel) e o Dispositivo Móvel de Coleta (DMC).
- (D) Dispositivo Móvel de Coleta (DMC) e o Questionário Básico.
- (E) Mapa do Setor Censitário (digital) e o Questionário da Amostra.

Questão 36

Quem exercerá as tarefas de supervisão da operação censitária, com atenção às questões técnicas e de informática, exercendo, quando necessário, tarefas administrativas, como renovação de contratos e avaliação de recenseadores?

- (A) Coordenador do senso
- (B) Agente Censitário Supervisor
- (C) Coordenador de área
- (D) Agente Censitário Municipal
- (E) Coordenador Censitário de Subárea

Questão 37

Em caso de resistência à prestação de informações ao IBGE, é necessário que o Recenseador consiga apresentar argumentos convincentes ao informante relutante. Entretanto, se mesmo assim a recusa persistir, o que o Recenseador deve fazer?

- (A) Retornar no dia seguinte à residência do informante que se recusou a prestar informações para uma nova tentativa.
- (B) Solicitar apoio policial para exigir que o informante preste as informações necessárias.
- (C) Multar o informante por recusa de atendimento.
- (D) Comunicar a recusa ao Supervisor para receber novas orientações.
- (E) Solicitar ao supervisor que abra um processo administrativo para avaliar a conduta do informante.

Questão 38

A abordagem aos moradores é um momento crítico da coleta, onde o informante faz um primeiro “juízo de Recenseador. Portanto, o recenseador NÃO deve:

- (A) Vestir-se de forma adequada e discreta, e estar sempre portando o crachá de identificação.
- (B) Ser objetivo e falar brevemente o que deseja.
- (C) Cumprimentar o informante, demonstrando que é uma pessoa credenciada e treinada para realizar a coleta pelo IBGE.
- (D) Demonstrar profissionalismo e credibilidade.
- (E) Falar informalmente, com o uso de gírias, para que o informante fique mais à vontade.

Questão 39

Joana, Antônia, José, Maria e Hugo dividem uma casa. Joana e Antônia moram no térreo e cada uma com seu quarto. José e Maria são casados e moram no segundo andar da casa, cujo acesso se dá de maneira independente. Hugo mora no porão desta casa, por onde se chega através da sala de estar de Joana e Antônia.

Quantos domicílios existem na situação acima narrada?

- (A) 1
- (B) 2
- (C) 3
- (D) 4
- (E) 5

Questão 40

As coordenadas geográficas consistem em um dos métodos mais eficientes de localização, pois permitem identificar qualquer ponto na superfície da Terra por meio de dois valores: latitude e longitude.

Assinale a alternativa correta acerca de latitude:

- (A) é o afastamento, medido em graus, da linha do Equador até um ponto qualquer da superfície terrestre.
- (B) ela vai de 0° a 180° e pode ser Norte ou Sul.
- (C) é o afastamento, medido em graus, do meridiano de Greenwich até um ponto qualquer da superfície terrestre.
- (D) ela vai de 0° a 90° e pode ser Leste ou Oeste.
- (E) é o afastamento, medido em graus, da linha do trópico de capricórnio até um ponto qualquer da superfície terrestre.

Questão 41

O crachá é o documento que credencia o funcionário a realizar a pesquisa para o IBGE. Analise a imagem a seguir e assinale a alternativa correta referente aos itens do crachá:



- (A) 3 - QRcode para confirmar os dados do recenseador diretamente do site do IBGE.
- (B) 1 - foto do Agente Censitário Supervisor daquele Recenseador.
- (C) 1 - foto do Recenseador.
- (D) 2 - QRcode para confirmar os dados do informante diretamente do site do IBGE.
- (E) 2 - dados do Recenseador.

Questão 42

O bom desempenho do trabalho do recenseador está associado ao domínio dos conceitos e dos procedimentos que serão utilizados no Censo, entretanto caso venha a encontrar alguma dificuldade, o recenseador deverá se reportar ao:

- (A) Agente Censitário Municipal.
- (B) Coordenador do Censo.
- (C) Agente Comunitário.
- (D) Agente Censitário Supervisor.
- (E) Coordenador Censitário de Subárea.

Questão 43

A remuneração mensal do recenseador será por produção, e por conta disso é de suma importância que cada um tenha conhecimento sobre os conceitos de remuneração, bem como os descontos mais comuns que costumam ocorrer.

Desta forma, o ganho total do recenseador (produção + salário-família, quando houver) refere-se à (aos, à):

- (A) remuneração líquida.
- (B) proventos.
- (C) remuneração por rescisão.
- (D) subsídios.
- (E) remuneração bruta.

Questão 44

Quem é o recenseador?

- (A) É o responsável por fazer o trabalho da coleta de dados por meio de entrevistas com os moradores, aquele que está em contato direto com o público
- (B) É o responsável por distribuir tarefas e pelos equipamentos de coleta, assim como por acompanhar o desenvolvimento dos trabalhos e cobrar o cumprimento das normas estabelecidas pelo IBGE
- (C) É o elo entre aqueles que coletam as informações e aqueles que gerenciam o Posto de Coleta, ou seja, é a peça chave do censo demográfico
- (D) É o responsável por exercer as tarefas de supervisão da operação censitária, com atenção às questões técnicas e de informática
- (E) É o responsável por fornecerá as informações, o material necessário, instrumentos de trabalho e prestar orientação técnica e assistência permanente durante o período de realização da coleta de dados

Questão 45

O morador é a pessoa que, na data de referência, residia habitualmente no domicílio. Assim, é considerado morador o indivíduo que permanece na condição de morador mesmo que esteja ausente do domicílio (a sua residência habitual) por um período que não ultrapasse a:

- (A) 3 meses.
- (B) 1 ano.
- (C) 8 meses.
- (D) 2 anos.
- (E) 6 meses.

Questão 46

Maria, recenseadora, ao chegar à residência de João, sabendo que para que seja feita uma abordagem correta, deve explicar para o informante, de forma clara e segura, a importância do Censo Demográfico 2020 para o País. Para tanto, ela informou que:

I - O XIII Censo Demográfico será um “retrato de corpo inteiro” do País com o levantamento do perfil da população e das características de seus domicílios.

II – A partir da conclusão do censo, o Brasil vai dispor de informações necessárias para conhecer as características das pessoas, onde residem, por exemplo, a fim de planejar políticas e investimentos públicos.

III – o Censo Demográfico é a principal fonte de dados sobre a situação de vida da população nos municípios e localidades e o último aconteceu em 2015.

Estão corretos os itens:

- (A) I, somente.
- (B) I e III.
- (C) II e III.
- (D) I, II e III.
- (E) I e II.

Questão 47

Qual a importância do Manual do Recenseador?

- (A) Porque é fundamental para a localização do Recenseador em campo e para o trabalho de coleta.
- (B) Pois exibe o Mapa do setor por meio de uma imagem, obtida por satélites, da área do setor e das áreas que o rodeiam.
- (C) Porque é usado como recurso instrucional durante seu treinamento, além de fonte de consulta para o seu trabalho de coleta de dados.
- (D) Para registro e armazenamento das informações coletadas em campo.
- (E) Porque é a principal ferramenta de trabalho no cotidiano do Recenseador.

Questão 48

Setor Censitário com mais de 50 domicílios que se encontram associados a Projetos de Assentamento. São localidades de habitação e produção agrícola, caracterizada pelo adensamento e pela concentração de domicílios de famílias de determinado assentamento rural.

A qual tipo de Setor Censitário a definição acima se refere?

- (A) Convento / Hospital
- (B) Agrovila do PA (Projeto de Assentamento)
- (C) Aglomerado Subnormal
- (D) Agrupamento Quilombola
- (E) Setor com Baixo Patamar Domiciliar

Questão 49

NÃO é considerado como componente do endereço:

- (A) quadra.
- (B) complemento.
- (C) coordenadas geográficas.
- (D) número.
- (E) Logradouro.

Questão 50

Para definir e caracterizar corretamente a existência de um ou mais domicílios em uma mesma propriedade ou terreno, é essencial o estabelecimento dos seguintes critérios:

- (A) Impessoalidade e Independência.
- (B) Determinação e Separação.
- (C) Unidade e Impessoalidade.
- (D) Separação e Independência.
- (E) Unidade e Interdependência.